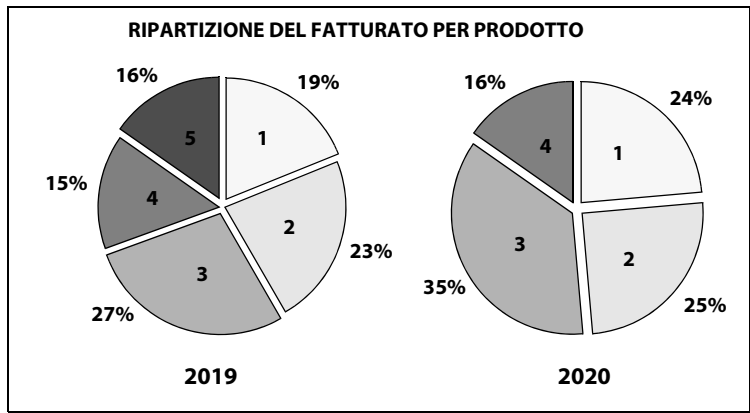


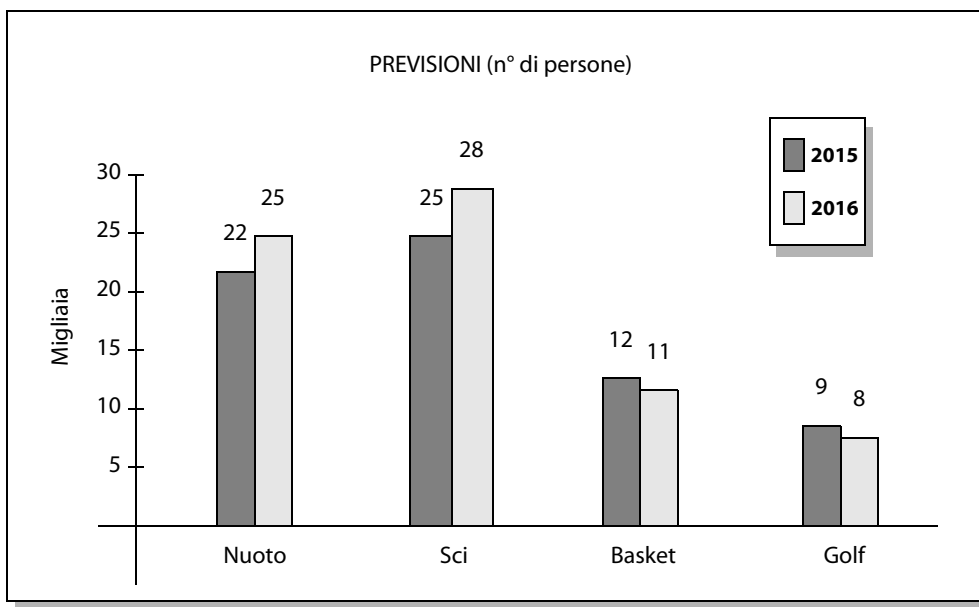
Risolvere i seguenti esercizi di interpretazione di grafici e tabelle.

86 Sulla base dei seguenti grafici "a torta", quale tra i prodotti 1, 2, 3, 4 e 5 ha avuto il maggiore incremento percentuale, in termini di fatturato, passando dal 2019 al 2020?



- A 3
- B 1
- C 4
- D 2
- E Non è possibile rispondere sulla base delle informazioni fornite

La società di ricerche "Guess" ha effettuato uno studio sul numero di persone che praticano sport, mettendo a confronto i dati del 2015 con quelli previsti per il 2016, e ha prodotto il seguente grafico comparativo:

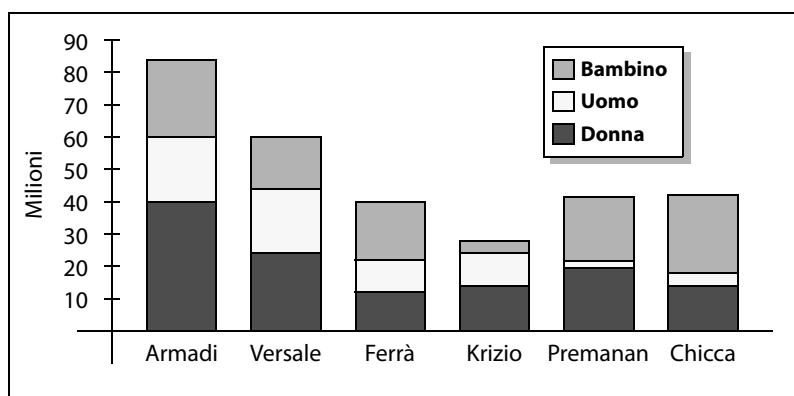


87 Se la spesa annua sostenuta da ogni praticante è mediamente quella rappresentata nella seguente tabella, quale sport ha prodotto il maggior "giro d'affari" (spese) nel 2015?

Sport	Spese (in Euro)
Nuoto	370
Sci	610
Basket	150
Golf	2400

- A Nuoto
- B Basket
- C Sci
- D Golf
- E Non è possibile rispondere

Il grafico seguente rappresenta il fatturato ottenuto nel 2019 da alcune aziende di moda italiane, suddiviso per segmento di mercato. Leggere attentamente il grafico e rispondere alle domande seguenti.



88 Quale azienda ha ottenuto il maggior fatturato?

- A Versale
- B Ferrà
- C Armadi
- D Premanan
- E Chicca

89 Quale azienda ha ottenuto il minor fatturato dal segmento uomo?

- A Armadi
- B Ferrà
- C Premanan
- D Chicca
- E Krizio